

Ile pisanek?

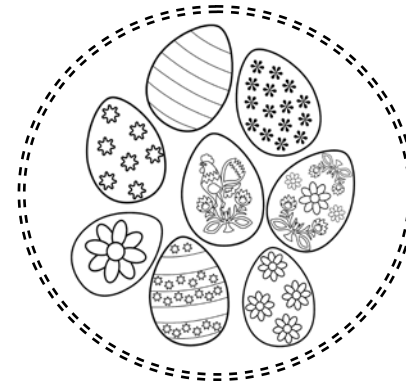
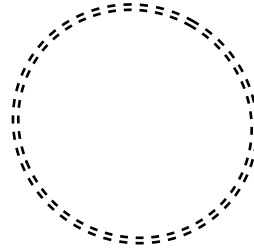
Wykonaj obliczenia, a następnie połącz odpowiednio wyniki z ich prezentacją graficzną. Każdej wartości liczbowej (a więc i poszczególnym zbiorom) przyporządkuj inny kolor kredki. Do niektórych zbiorów poprowadzisz więcej niż jedną linię.

$5 + 3 =$

$3 + 2 =$

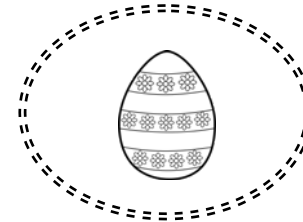
$1 + 6 =$

$2 - 1 =$





$2 + 1 =$

$5 - 5 =$



$7 + 1 =$



$4 + 3 =$